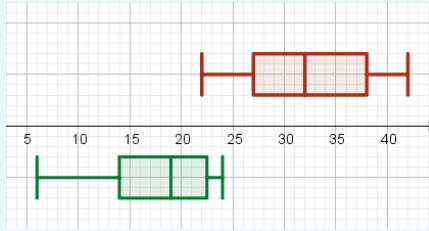


****11.** Luka Dončić je po izjemnih predstavah na evropskih košarkarskih igriščih leta 2018 prestopil v najmočnejšo ligo na svetu. Prikazana je statistika točk, ki jih je Luka Dončić dosegel na novembrskih tekmah v njegovi prvi in drugi sezoni v ligi NBA. Kaj vse lahko razbereš iz prikaza?



Skrivnosti števil in oblik 9,
učbenik, stran 248

8 Zapiši z ulomkom in odstotki.

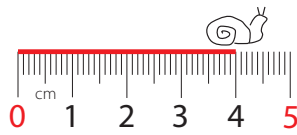
a) Delež otrok v skupini



Uloemek: _____

Odstotki: _____

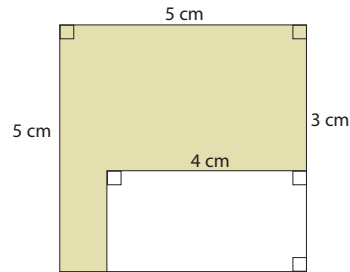
b) Delež polževe poti



Uloemek: _____

Odstotki: _____

***c)** Delež pobarvanega dela kvadrata

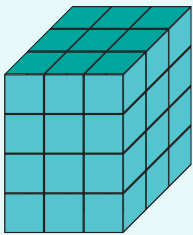


Uloemek: _____

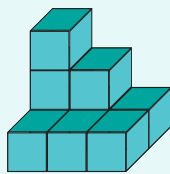
Odstotki: _____

Skrivnosti števil in oblik 7, NOVE SKRIVNOSTI, 3. del, stran 34

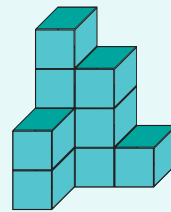
1. Ugotovi, koliko gradnikov moraš dodati telesoma, da bosta enaka kvadru na levi.



a)

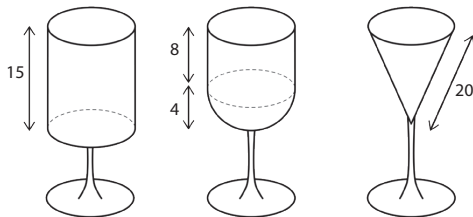


b)

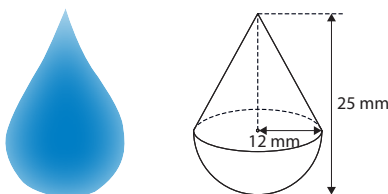


Skrivnosti števil in oblik 6,
Delovni zvezek, 2. del, stran 30

****12.** Kateri kozarec drži največ in kateri najmanj vode? Za koliko decilitrov se razlikujeta največji in najmanjši kozarec? Vsi podatki so v centimetrih. Premer zgornjega roba kozarcev je 10 cm.



****13.** Izračunaj prostornino »kapljice« in jo zapiši v mililitrih.



Skrivnosti števil in oblik 9,
Učbenik, stran 206